

Шифр: \_\_\_\_\_  
поле не заполнять

Малая областная олимпиада школьников  
Ленинградской области  
2021/2022

по истории

Район Бокситогорский

Школа Бокситогорская СОШ №3

Класс 8А

ФИО Алексеев Сергей

Константинов

## 7-8 КЛАССЫ

Максимальная оценка — 100 баллов

Время на подготовку ответа — 3 часа

**I. Выберите из перечисленных ТРИ события, которые происходили в период правления Ярослава Мудрого (правильный ответ — 3 балла).**

Великая хартия вольностей

Битва при Гастингсе

«Русская Правда» ✓

Создание «Повести временных лет»

Строительство собора Святой Софии в Киеве ✓

Основание города Юрьева (Тарту) ✓

**II. Заполните пробелы в тексте (при вводе ответа учитывайте число и падеж в соответствии с правилами русского языка, имена собственные пишутся с заглавной буквы). Ответы занесите в таблицу в виде перечня слов, заменённых в тексте соответствующими номерами (правильный ответ — 7 баллов).**

Когда Карл Великий провозгласил себя императором франков, на Востоке это восприняли как большую дерзость, ведь единственным государем, который имел право на императорский титул, был ромейский василевс. Однако в то время [1] империя переживала очень трудные времена и не могла препятствовать амбициям Карла. С одной стороны на империю наступали [2], принявшие новую религию — [3], с другой — ее сотрясали внутренние распри между иконопочитателями и [4].

Во второй половине [5] века империя навсегда потеряла Сирию, Палестину, Египет и северную Африку, уступив их новым завоевателям. Теперь они постоянно вторгаются и на территорию Малой Азии, где, угрожая империи все больше, атакуют острова в Средиземном море. Остановить их натиск смог только правитель по имени Лев III [6]. Он был незнатного происхождения, однако сумел добыть себе славу на полях сражений и прослыл искусным полководцем. Не успел он еще вступить на престол, как завоеватели-неофиты осадили саму имперскую столицу. Однако, в результате решительных действий Льва III на море и применения очень мощного в то время оружия греческого [7] — горючей жидкости, которая под давлением выбрасывалась из особых трубок на корабли неприятеля, захватчики были вынуждены отступить и еще долго не могли отправиться от понесенного поражения. Победы императора отвели опасность завоевания иноверцами, которая нависла в то время над Малой Азией.

**Ответ:**

Пропуск	Пропущенные слова
1	Динская
2	Византия
3	
4	
5	Византия
6	Ислам

III. Перед Вами стихотворение В. Я. Брюсова «В разрушенном Мемфисе». Прочитайте его внимательно и ответьте на вопросы, приведенные ниже, используя информацию из текста и знания из курса истории (максимальное количество баллов — 8).

Как царственно в разрушенном Мемфисе,  
Когда луна, тысячелетий глаз,  
Глядит печально из померкшей выси  
На город, на развалины, на нас.

Ленивый Нил плывет, как воды Стикса;  
Громады стен проломленных хранят  
Следы кирки неистового гикса;  
Строг уцелевших обелисков ряд.

Я — скромный гость из молодой Эллады,  
И, в тихий час таинственных планет,  
Обломки громкого былого рады  
Шепнуть пришельцу горестный привет:

«Ты, странник из земли, любимой небом,  
Сын племени, идущего к лучам, —  
Пусть ты клянешься Тотом или Фебом,  
Внимай, внимай, о чужестранец, нам!

Мы были горды, высились высоко,  
И сердцем мира были мы в веках, —  
Но час настал, и вот, под бурей Рока,  
Погнулись мы и легли во прах...

В твоей стране такие же колонны,  
Как стебли, капителью расцветут,  
Падет пред ними путник удивленный,  
Их чудом света люди назовут.

Но и твои поникнут в прах твердыни,  
Чтоб после путники иной страны,  
Останки храмов видя среди пустыни,  
Дивились им, величьем смущены <...>

Торжествен голос царственных развалин,  
Но, словно Стикс, струится черный Нил.  
И диск луны, прекрасен и печален,  
Свой вечный путь вершит над сном могил.

1. Столицей какого государства был Мемфис?

Мемфис был столицей Древнего Египта

2. Назовите два имени богов, упомянутых в стихотворении, и укажите, в каких странах почитался каждый из них.

Бог Тот почитался в Древнем Египте; Бог Хекс почитался в Древнем Риме





### 3. Где протекала река Стикс?

*На земле она протекала в восточном царстве*

### 4. Подумайте и напишите, что подразумевается под «колоннами», которые «чудом света люди назовут»?

*храм*

IV. Вам предлагается небольшой зрительный ряд, где в каждом изображении зашифровано одно слово. Для правильной расшифровки под изображениями даны подсказки. Если Вы верно определите все слова, то далее Вам не составит труда из первых букв каждого из них сложить ключевое слово-понятие. **Впишите название каждого слова, скрытого за изображением (по 1 баллу за каждое слово), составьте ключевое слово и внесите его в ответ (2 балла), дайте определение ключевому слову-понятию (3 балла).**

	
<p>Подсказка: государственный деятель, министр народного просвещения</p>	<p>Подсказка: бумажные деньги</p>
	
<p>Подсказка: автор</p>	<p>Подсказка: 1807 год</p>



Подсказка: имя новгородской героини

Ответы:

- 1.
- 2.
- 3.
- 4.
- 5.
- 6.

Сергей Семёнович Фёдоров  
Символические  
Символы  
Гильбертовский миф

Ключевое слово:

V. Перед Вами отрывок из сочинения древнеримского историка Гая Светония Транквила. Прочитайте его и ответьте на вопросы, используя информацию из текста, а также знания из курса истории (максимальное количество баллов — 8).

О восстановлении республики он задумывался дважды: в первый раз — тотчас после победы над Антонием, когда еще свежи были в памяти частые обвинения его, будто единственно из-за Октавия республика еще не восстановлена; и во второй раз — после долгой и мучительной болезни, когда он даже вызвал к себе домой сенаторов и должностных лиц и передал им книги государственных дел. Однако, рассудив, что и ему опасно будет жить частным человеком, и республику было бы неразумно доверять своеволию многих правителей, он без колебания оставил власть за собой; и трудно сказать, что оказалось лучше, решение или его последствия.

Об этом решении он не раз заявлял вслух, а в одном эдикте он свидетельствует о нем такими словами: «Итак, да будет мне дано установить государство на его основе целым и незыблемым, дабы я, пожиная желанные плоды этого свершения, почитался творцом лучшего государственного устройства и при кончине унес бы с собой надежду, что заложенные мною основания останутся непоколебленными». И он выполнил свой обет, всеми силами стараясь, чтобы никто не мог пожаловаться на новый порядок вещей.

Вид столицы еще не соответствовал величию державы, Рим еще страдал от наводнений и пожаров. Он так отстроил город, что по праву гордился тем, что принял Рим кирпичным, а оставляет мраморным; и он сделал все, что может предвидеть человеческий разум, для безопасности города на будущие времена. Общественных зданий он выстроил

очень много; из них важнейшие — форум с храмом Марса Мстителя, святилище Аполлона на Палатине, храм Юпитера Громовержца на Капитолии. Форум он начал строить, видя, что для толп народа и множества судебных дел уже недостаточно двух площадей и нужна третья; поэтому же он поспешил открыть этот форум, не дожидаясь окончания Марсова храма, и отвел его для уголовных судов и для жеребьевки судей <...>. Да и другим видным гражданам он настойчиво советовал украшать город по мере возможностей каждого, воздвигая новые памятники или восстанавливая и улучшая старые.

И много построек было тогда воздвигнуто многими гражданами: Марцием Филиппом — храм Геркулеса Мусагета, Луцием Корнифицием — храм Дианы, Азинием Поллионом — атрий Свободы, Мунацием Планком — храм Сатурна, Корнелием Бальбом — театр, Статилием Тавром — амфитеатр, а Марком Агриппой — многие другие превосходные постройки.

1. Укажите двойное имя правителя, о котором идет речь. Как называлась специфическая форма государственного устройства, творцом которой он себя называет.

Октавиан Август, Император и Неперс

2. Укажите год победы этого правителя над Антонием. Какое важнейшее для Западной цивилизации событие произошло в иудейском городе Вифлееме при указанном вами правителе?

31 год до н.э


3. Как со временем стали называть в Риме граждан, которые тратили собственные средства на строительство и восстановление памятников, поддержку искусства? От чьего имени происходит это название?

кассандри

4. Выпишите названия двух римских холмов, упоминаемых в тексте.

Палатин и Капитолий

VI. Перед Вами четыре картины, написанные в жанре исторической живописи. Укажите порядковый номер изображения, которое связано с событиями, происходившими НЕ в Новгороде (правильный ответ — 6 баллов):



1.



2.



3.

6 уз 14





4.

Ответ:

3

VII. Перед вами четыре памятника архитектуры, три из которых принадлежат авторству великого Джакомо Кваренги. Укажите порядковый номер изображения здания, которое спроектировал другой архитектор (*Правильный ответ — 6 баллов*).



1.



2.





3.



4.

Ответ:


3

**VIII.** Памятных мест, связанных с императором Петром Великим, 350 лет со дня рождения которого исполняется в 2022 г., и памятников правителю очень много как на территории Российской Федерации, так и за ее пределами. А какой из представленных ниже памятников в России является копией с иностранного оригинала? Укажите порядковый номер изображения этого памятника (*правильный ответ — 6 баллов*).



1.

8 из 14



2.



3.



4.

Ответ:

4

**IX. Перед Вами описание последствий одного из знаменитых сражений русской истории. Прочитайте внимательно текст и ответьте на вопросы (максимальное количество баллов — 6)**

«Возвратившись с погони, князь Владимир Андреевич стал на костях и велел трубить в трубы; все оставшиеся в живых ратники собрались на эти звуки, но не было великого князя Дмитрия; Владимир стал расспрашивать: не видал ли кто его? Одни говорили, что видели его жестоко раненного, и потому должно искать его между трупами; другие, что видели, как он отбивался от четырех татар и бежал, но не знают, что после с ним случилось; один объявил, что видел, как великий князь, раненный, пешком возвращался с боя. Владимир Андреевич стал со слезами упрашивать, чтоб все искали великого князя, обещал богатые награды тому, кто найдет. Войско рассеялось по полю; нашли труп любимца Дмитриева Михаила Андреевича Бренка, которого перед началом битвы великий князь поставил под свое черное знамя, велел надеть свои латы и шлем;

9 из 14

остановились над трупом одного из князей белозерских, похожего на Дмитрия, наконец двое ратников, уклонившись в сторону, нашли великого князя, едва дышавшего, под ветвями недавно срубленного дерева. Получивши весть, что Дмитрий найден, Владимир Андреевич поскакал к нему и объявил о победе; Дмитрий с трудом пришел в себя, с трудом распознал, кто с ним говорит и о чем; панцирь его был весь избит, но на теле не было ни одной смертельной раны».

1. Укажите название сражения и год, когда оно произошло.

Булшкская битва, 1380 год

2. Как звали предводителя войска противника? Объясните, почему его называют «темником»?

Мамай. Так называли соперников из Золотой

орды = темны

X. Соотнесите названия городов России с названиями рек, на которых они расположены (одна позиция в правом столбце лишняя). (Правильный ответ — 10 баллов).

	Название города		Название реки
1	Ярославль	А	Северная Двина
2	Челябинск	Б	Обь
3	Красноярск	В	Волга
4	Новосибирск	Г	Миасс
5	Архангельск	Д	Енисей
		Е	Печора

Ответ внесите в таблицу.

1	2	3	4	5
В	Г	Д	Б	А

XI. Перед Вами 5 слов и выражений или имен, относящихся к одному историческому событию, явлению или периоду. Вам необходимо указать это событие (явление или период) и обозначить правителя (указав годы его правления), при котором это событие или явление происходило (правильный ответ — 6 баллов).

Богослужбные книги, патриарх, Соловецкий монастырь, исправление, «старое благочестие».

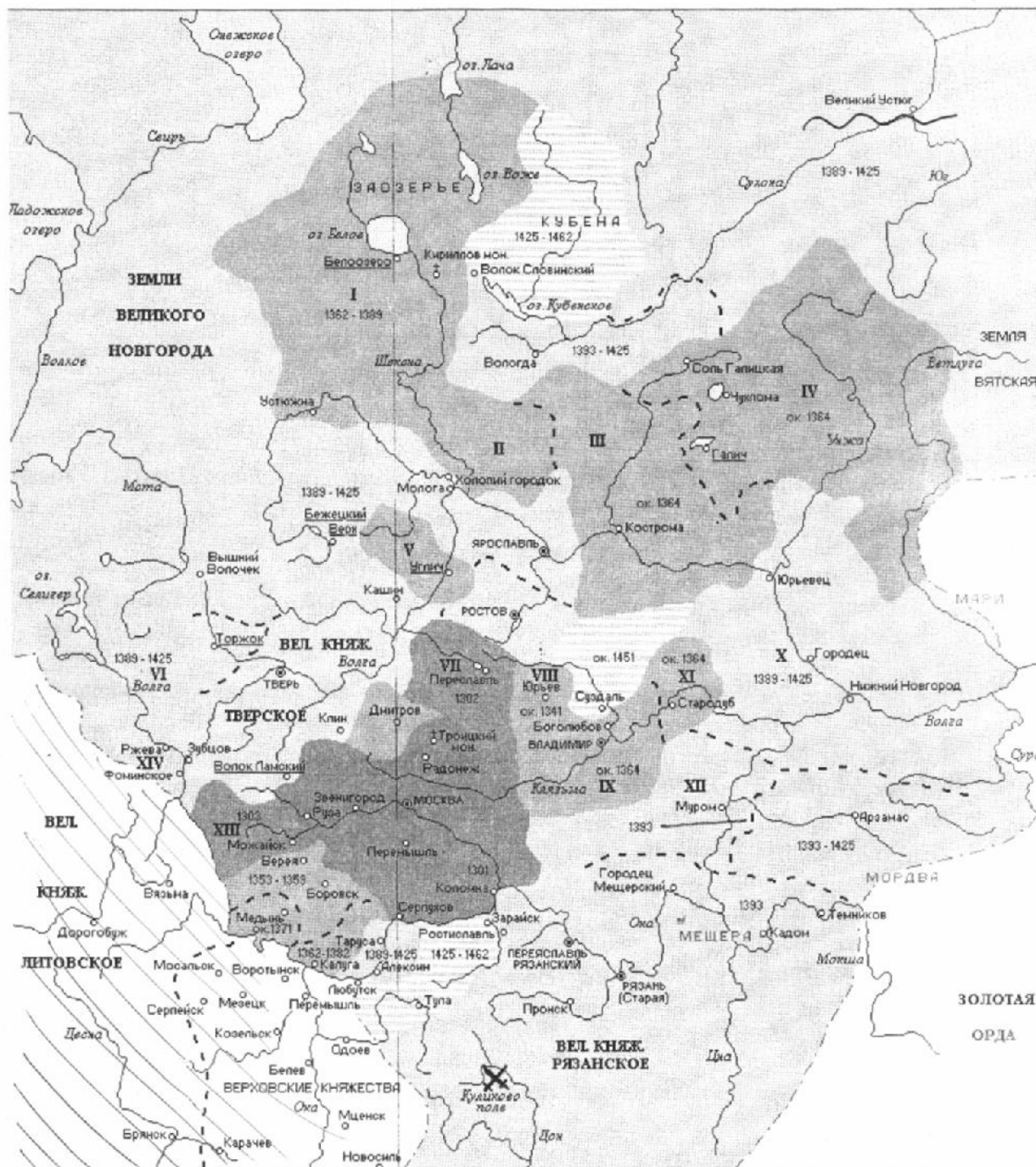
Ответ:

Патриарх Никон (1650-1665) - Бунт в Соловецком монастыре

XII. Разгадайте исторический кроссворд (правильный ответ — 10 баллов)

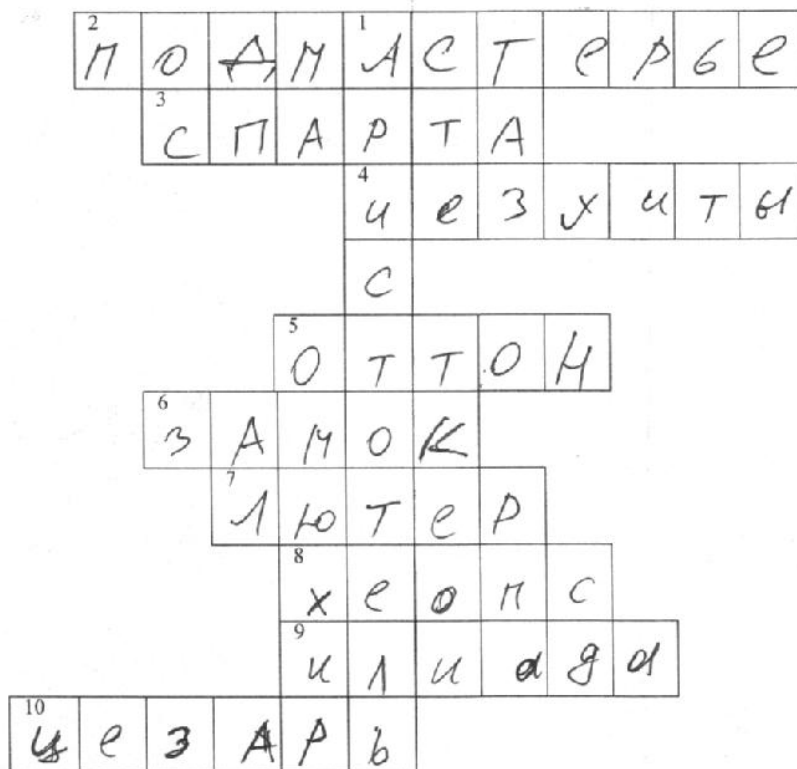
10 из 14

На предложенной карте «Россия в XIV–XV вв.»:



1. Стрелочками обозначьте реку, которая с присоединением Можайска вся от истока до устья вошла в состав удела князя Юрия Даниловича. Надпишите ее название.
2. Найдите на карте и подчеркните:

11 12 14



**По вертикали:**

1. Древнегреческий философ, живший в IV в. до н.э., ученик Платона, воспитатель Александра Македонского.

**По горизонтали:**

2. Квалифицированный ремесленник в средневековых цехах, закончивший ученичество, но еще не ставший самостоятельным мастером.
3. Государство в Древней Греции, в области Лакония на юге полуострова Пелопоннес.
4. Монахи, члены мужского духовного ордена Римско-католической церкви, основанного Игнатием Лойолой в XVI веке.
5. Первый император Священной Римской Империи.
6. Укрепленное жилище феодала.
7. Фамилия автора 95 тезисов, инициатора Реформации.
8. Египетский фараон, строитель самой высокой пирамиды.
9. Поэма Гомера, рассказывающая об осаде города Трои.
10. Диктатор Римской республики, перешедший Рубикон и убитый на мартовские иды.



а) *прямой чертой* — древний русский город, первым удельным князем которого считается Глеб Владимирович (1013–1015 гг.), убитый по приказу Святополка; это княжество было присоединено к Москве великим князем Василием Дмитриевичем;

б) *волнистой чертой* — город, с самого своего основания в начале XIII в. служивший опорным пунктом ростово-суздальских князей, преграждая дорогу в древнее Заволочье; он очень мешал дальнейшему продвижению новгородцев на север, и в XIV–XV веках они шесть раз нападали на него, однако его жители продолжали держать сторону московских князей.

**3. Найдите на карте и укажите значком X — место сражения, после которого «метнулся поганый Мамай от своей дружины серым волком и прибежал к Кафе-городу. И молвили ему фряги: “Что же это ты, поганый Мамай, посягаешь на Русскую землю? Ведь побил тебя орда Залесская. А не бывать тебе Батыем царем”»;**

**Найдите на карте и заштрихуйте — территорию земли (княжества), откуда прибыла супруга великого князя Василия Дмитриевича Софья.**

**XIV. Хорошо известно, что существует немало вспомогательных исторических дисциплин. Одна из таких дисциплин — палеография (наука, исследующая внешние признаки рукописных источников в их историческом развитии). Перед Вами берестяная грамота № 120. Расшифруйте текст и ответьте на вопросы (максимальное количество баллов — 6)**



№ 120

0 1 2 3 4 5 см.

**1. Какой из предложенных ниже вариантов полностью соответствует тексту грамоты? Запишите ответ цифрой.**

1. От Якима к Нестеру. Дай векшу.
2. О Якима к Нестарко. Дан векшко.
3. У Якима к Нестеруо. Дай векшко.

1

**2. Где впервые были обнаружены берестяные грамоты?**

в Великом Новгороде

**3. Вспомните и напишите, как называлось народное собрание этого города.**

Дума

№ задания	I	II	III	IV	V	VI	VII	VIII	IX	X	XI	XII	XIII	XIV	Всего
Баллы															

14 из 14